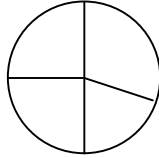



Übungen zur Prozentrechnung (Prozentsatz)

Grundlegend & Erweiternd

1. Schreibe die Prozentangaben an die richtigen Stellen:
25%, 30%, 20%, ?%



2. Verbessere das Kreisdiagramm, bis es stimmt.



3. Vervollständige die Übersicht und berechne den Prozentsatz (im Heft)

	32,-€	100%	
a)	1,-€		
	12,-€	= ?	

	40€	100%	
b)	1€		
	33€	= ?	

4. Wie viel % macht der neue Preis aus?

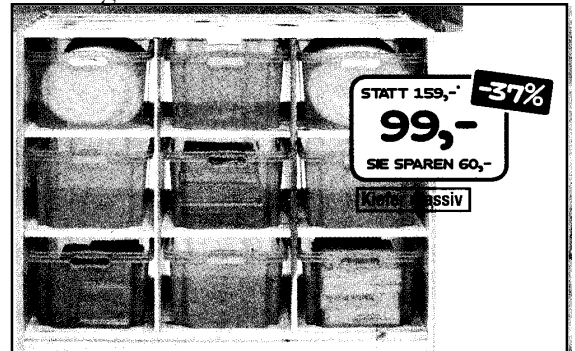
STATT 8,- €
Jetzt NUR 5,-€

5. Wie viel Prozent macht der neue Preis aus?

FRÜHER 45,- €
Jetzt NUR 25,-

PLUS-Aufgaben

6. Holzregal...



Wie viel Euro beträgt der Preisnachlass? Rechne nach wie viel % der Preisnachlass ausmacht.

7. Du kaufst zwei Joghurts...



- a) Wie viel Euro kosten die beiden Joghurts zusammen?
- b) Wie viel Euro hättest du früher (einzeln) für die beiden Joghurts bezahlen müssen?
- c) Wie viel Euro sparst du dir?
- d) Wie viel macht das Gesparte in % aus? Rechne das nach!

8. Verbinde mit weniger als 7 Linien – ohne abzusetzen!

